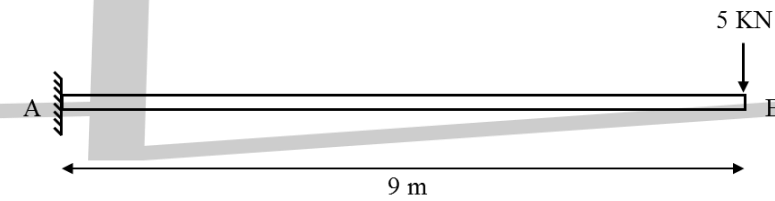
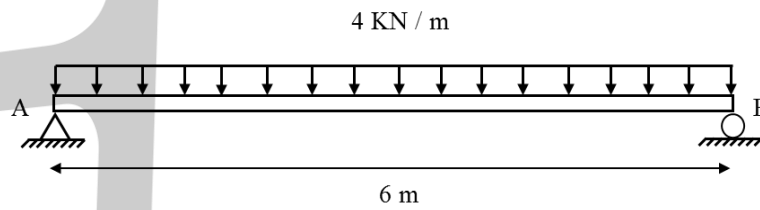
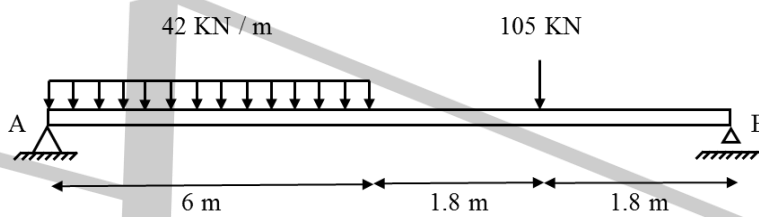
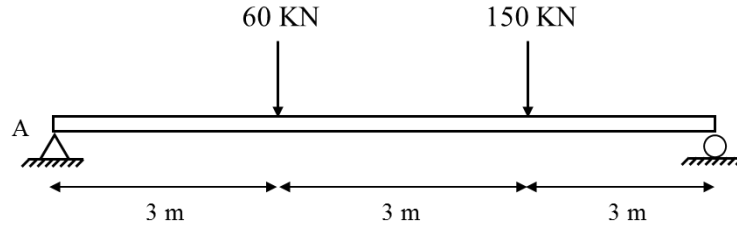
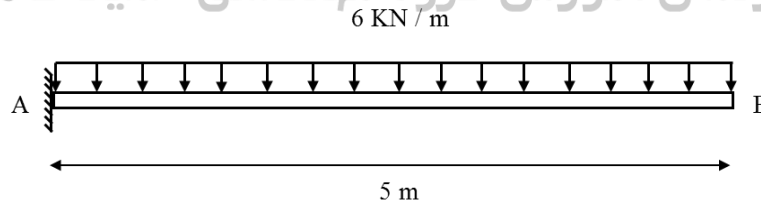


تاریخ تحویل: ۰۳/۰۱/۲۰	استاد: حمید طاهری		تمرین های درس : طراحی ساختمان های بتنی
	صفحه : ۱	شماره تمرین : سری دوم	

۱. واکنش تکیه گاهی سازه های زیر را محاسبه نموده و نمودار نیروهای داخلی آنها را رسم نمایید .



دیپارتمان آموزش گروه مهندسی حمید طاهری



* در حل این سؤالات نکاتی است که احتیاج به کمی تحقیق دارد. پیشاپیش سال نو بر تمام عزیزان مبارک. (۴)

موفق باشید